





PLAN PLACU ZABAW

To jest plan placu zabaw.

- 1) Na jakim polu znajduje się piaskownica?
- 2) Jaką drogą można przejść ze zjeżdżalni do ławeczki? – wymień pola, przez które przejdiesz.
- 3) Stoisz na polu A3. Przesuń się w przód o 2 pola i w dół o jedno pole. Gdzie doszedłeś?
- 4) Narysuj klomb z kwiatami na polu D2.
- 5) Co jeszcze mogłoby znaleźć się na placu zabaw, żeby dzieci mogły miło i bezpiecznie spędzić tam czas?

	A	B	B	D
1				
2				
3				
4				



KAPITAŁ LUDZKI
NARODOWA STRATEGIA SPÓJNOŚCI

